

## Diplomausbildung Journalismus 2025–2027 Aufnahmeprüfung 2024

### Allgemeinwissen

Pseudonym (nicht Ihr Name): .....

Sie haben 120 Minuten Zeit, um die vorliegenden Aufgaben (in beliebiger Reihenfolge) zu lösen. Beachten Sie bei der Zeiteinteilung die zu vergebenden Punkte (total 120), sie sind bei den Aufgaben jeweils in eckigen Klammern angegeben. Wir gehen also von einer Beschäftigung von ca. 1 Minute pro Punkt aus.

Bitte schreiben Sie Ihre Antworten leserlich in den vorgesehenen Raum. Wenn nötig, können Sie für jeweils jede Aufgabe, die Sie bitte genau angeben, ein Zusatzblatt verwenden. Legen Sie die Zusatzblätter der Prüfung bei, jedes wiederum mit Ihrem Pseudonym (nicht Ihrem Namen) versehen. Wenn Sie wollen, können Sie am Ende der Prüfung eine Rückmeldung zu Händen der Prüfungsredaktion schreiben.


Wir wünschen gutes Gelingen!

A. Zeitgeschehen	20 Punkte
B. Geschichte	20 Punkte
C. Recht und Wirtschaft	20 Punkte
D. Politische Bildung	20 Punkte
E. Gesellschaft und Kultur	20 Punkte
F. Medien	20 Punkte
<hr/>	
Total	120 Punkte

## A. Zeitgeschehen

### A1 International

- a) Nennen Sie Namen und/oder Funktion der folgenden Personen möglichst genau. [5]




b) Für welche Organisationen, Institutionen, Unternehmen oder Apps stehen diese Logos? [3]



## A2 Globale Herausforderungen

Erklären Sie die Karikatur (von Silvan Wegmann in der AZ) mit ihren Elementen und Aussagen. [2]

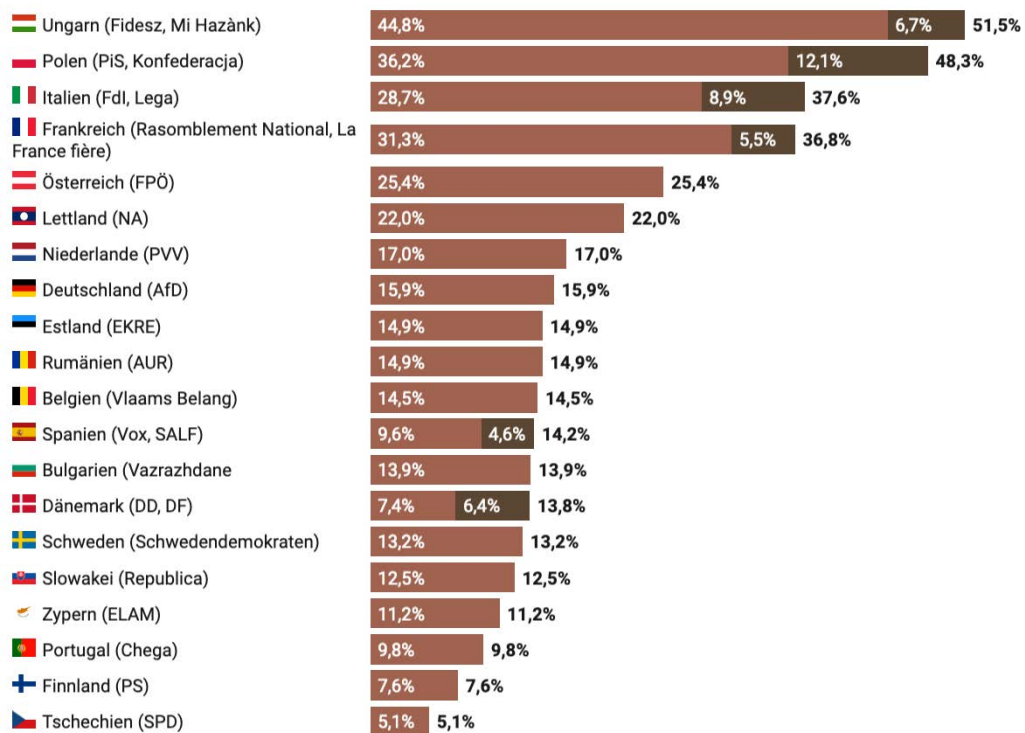


### A3 Europa Populismus

Seit einigen Jahren wird in Europa von einem Erstarren des Populismus gesprochen, also von Bewegungen und Parteien, die sich zwecks Machterwerb unter Ausnutzung vorhandener Stimmungslagen als «volksnah» bezeichnen und gleichzeitig die politischen und/oder wirtschaftlichen «Eliten» kritisieren. Die verwendete Rhetorik ist oft sehr emotionsgeladen und bedient Aspekte, die wir in Aufgabe c) anführen.

- a) Ordnen Sie die Aussage, dass der Populismus zunehmend Anklang finde, anhand der nachfolgend dargestellten Wahlergebnisse der Europawahlen 2024 kritisch ein. Wo die Säulen aus zwei Teilen bestehen, beziehen sich die Zahlen auf die beiden in Klammern genannten Parteien. (Quelle: Landeszentrale für politische Bildung Baden-Württemberg mit Daten des Europäischen Parlaments) [1]

#### Stimmenanteile rechtsextremer, rechtspopulistischer und anti-demokratischer Parteien bei den Europawahlen 2024



- b) Lösen Sie die folgenden Parteikürzel auf: [1]

AfD:

FPÖ:

- c) Oft werden die in der Tabelle angeführten Ursachen für das Erstarken populistischer Parteien genannt. Geben Sie in den Feldern rechts je ein Beispiel an, mit dem betreffenden Land und der Partei, die dieses Thema bedient, und mit der Konkretisierung der Ursache. [2]

Ursache	Beispiel
Opposition gegen bürgerferne Politik	Land: Partei: Konkret:
Schüren von Ängsten	Land: Partei: Konkret:
Wandel in demokratischen Institutionen	Land: Partei: Konkret:
Sozioökonomische Ursachen und «Sündenböcke»	Land: Partei: Konkret:

- d) Populistische Parteien und Bewegungen stehen in einem widersprüchlichen Verhältnis zu den Medien. Beschreiben Sie diesen Widerspruch. [2]

## A4 Die Schweiz und die Welt

Die Schweiz will als neutrales Land verhindern, dass ihre Waffen unkontrolliert in Kriegsgebieten benutzt werden. Das Bundesgesetz über das Kriegsmaterial (Kriegsmaterialgesetz KMG) reguliert, was zulässig ist. Dabei müssen verschiedene Kriterien berücksichtigt werden. Explizit nicht bewilligt werden Auslandsgeschäfte, wenn:

- *das Bestimmungsland in einen internen oder internationalen bewaffneten Konflikt verwickelt ist;*
- *das Bestimmungsland Menschenrechte schwerwiegend und systematisch verletzt;*
- *im Bestimmungsland ein hohes Risiko besteht, dass das auszuführende Kriegsmaterial gegen die Zivilbevölkerung eingesetzt wird; oder*
- *im Bestimmungsland ein hohes Risiko besteht, dass das auszuführende Kriegsmaterial an einen unerwünschten Endempfänger weitergegeben wird.*



Peter Gut, NZZ, 30. März 2023.

(Auszug KMG, 6. Abschnitt, Art. 22a: Bewilligungskriterien für Auslandsgeschäfte)

- a) Es hat sich gezeigt, dass das Schweizer KMG aber nicht nur Waffenexporte der Schweiz einschränkt, sondern auch die anderer Länder. Erklären Sie, wann und warum das der Fall ist. [2]

- b) Seit dem Beginn des Ukraine-Kriegs hat das Departement für Verteidigung, Bevölkerungsschutz und Sport (VBS) beim Waffenimport wiederholt Liefertermine mit anderen Staaten getauscht, sodass die anderen Staaten ihre Lieferungen baldmöglichst an die Ukraine weitergeben können. So hat man beispielsweise den Abtausch der Liefertermine einer schultergestützten Panzerabwehrlenkwaffe auf Antrag Deutschlands im Oktober 2024 bewilligt: Deutschland erhält seine Lieferung so vor der Schweiz statt umgekehrt; Deutschland wird seine Waffen der Ukraine zukommen lassen, was deutlich deklariert wurde. Halten Sie das Vorgehen des VBS für vereinbar mit der Neutralität der Schweiz? Begründen Sie Ihre Beurteilung. [1]

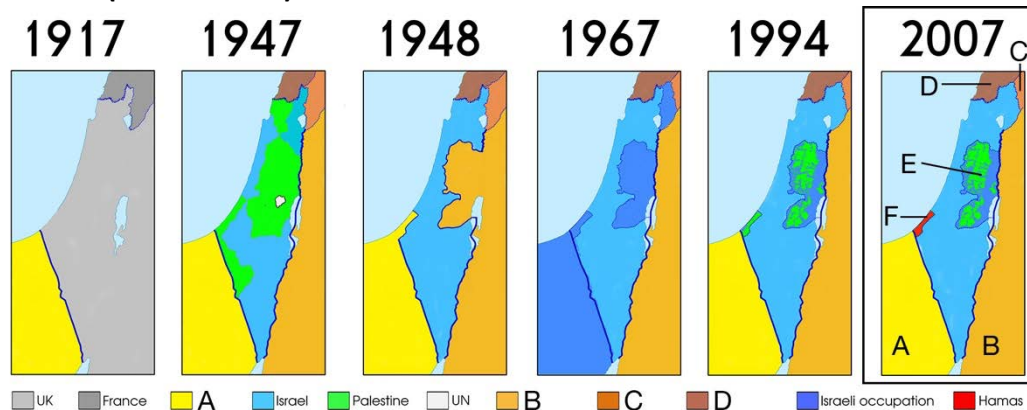
Die Organisation des Nordatlantikvertrags NATO ist ein militärisches und politisches Bündnis von 31 europäischen und nordamerikanischen Staaten.

- c) Nennen Sie eine Verbindung, über die auch die Schweiz mit der NATO kooperiert, zum Beispiel im Rahmen von gemeinsamen Manövern. [1]

## B. Geschichte

### B1 Weltgeschichte

#### Levante (Nahe Osten) und der Nahost-Konflikt



- a) Uns interessieren im Folgenden die Konflikte in und um Israel. Beachten Sie hierzu erst einmal vor allem den umrahmten Kartenausschnitt zu den Verhältnissen ab 2007 ganz rechts und beschriften Sie die folgenden Staaten bzw. Gebiete. Tragen Sie den Buchstaben G in der Karte dort ein, wo die Golanhöhen liegen. (Quelle: Observatory on Contemporary Crisis, Madrid) [2]

A (Staat):

B (Staat):

C (Staat):

D (Staat):

E (Gebiet):

F (Gebiet, Hamas):

G: Golanhöhen?

- b) Versehen Sie die folgenden Ereignisse mit jeweils einer der Jahreszahlen, die Sie oberhalb der dazugehörigen Kartenausschnitte finden: [2]

\_\_\_\_\_ Nach der Eroberung Palästinas durch britische Truppen im Ersten Weltkrieg deklariert der britische Außenminister die Errichtung einer «nationalen Heimstätte für das jüdische Volk in Palästina».

\_\_\_\_\_ Nach der Ausrufung eines unabhängigen und souveränen Staates Israel durch David Ben-Gurion am 14. Mai greifen arabische Truppen Israel an. Israel wehrt den Angriff ab und vergrößert sein Staatsgebiet. Jerusalem wird zwischen Israel und Jordanien aufgeteilt, hunderttausende Palästinenserinnen und Palästinenser fliehen in den Gazastreifen, ins Westjordanland und die umliegenden arabischen Staaten.

\_\_\_\_\_ Israel reagiert auf die ägyptische Blockade der Meerenge von Tiran mit einem Präventivschlag. Sechs Tage später wird auf Druck der USA und der Sowjetunion ein Waffenstillstand unterzeichnet (Ende des Sechstagekriegs). Der UN-Sicherheitsrat beschliesst die Resolution 242: Israel soll die besetzten Gebiete abtreten.

\_\_\_\_\_ Mit der Unterzeichnung eines Friedensabkommens in Washington D. C. beginnt der Osloer Friedensprozess. Das Gaza-Jericho-Abkommen spricht den Palästinenserinnen und Palästinensern die Stadt Jericho und den Gazastreifen als selbstverwaltete Gebiete zu.

- c) Zählen Sie drei wichtige Ereignisse oder Entwicklungen auf, die sich im Nahost-Konflikt nach dem 7. Oktober 2023 zugetragen haben. [1]

- 
- 
- 

- d) Israel wird immer wieder, seit dem 7. Oktober 2023 verstärkt, vorgeworfen, eine Kolonialmacht zu sein und koloniale Politik zu betreiben. Erörtern Sie anhand je eines Pro- und Contra-Arguments möglichst sachlich die Haltbarkeit dieses Vorwurfs. Zu zwei Schlüsselbegriffen liefern wir je eine Kurzdefinition mit. [2]  
*Kolonialmacht*: Ein Land, das über auswärtige abhängige Gebiete ohne eigene politische und wirtschaftliche Macht, die sogenannten *Kolonien*, regiert.

## B2 Die Schweiz in der Geschichte

### Naturkatastrophen

a) Auch die Schweiz wird nicht verschont von Naturkatastrophen. In die nachfolgende chronologisch geordnete Liste haben sich aber drei erfundene Ereignisse eingeschlichen. Streichen Sie die erfundenen Katastrophen. [2]

b) Schreiben Sie unter die Abbildungen je das passende Jahr (Ereignis aus der Liste). [2]

- 2. Sept. 1806: Bergsturz von Goldau (SZ)
- 11. Sept. 1881: Bergsturz von Elm (GL)
- 27. Febr. 1990: Sturm Vivian (Schweizer Rekord: Grosser St. Bernhard 268 km/h)
- 24. Sept. 1993: Hochwasser Saltina Brig/Glis (VS)
- 16. Aug. 1997 Überschwemmung in Sachseln (OW)
- Jan./Febr. 1999: Lawinenwinter mit 1200 Schadenlawinen, z. B. in Evolène (VS)
- 26. Dez. 1999: Orkan Lothar (Jungfrauoch 249 km/h)
- 14. Okt. 2000: Sturzflut/Schlammlawine in Gondo (VS)
- Aug. 2003: Hitzesommer, Grono (GR) 41.5 C°
- 19.–24. Aug. 2005: Jahrhunderthochwasser Voralpen
- 18. Sept. 2006: Erdbeben Hergiswil (NW) mit 6-m-Tsunami-Welle im Vierwaldstättersee
- 8.–9. Aug. 2007: Starkregen und Hochwasser («Viertes Jahrhunderthochwasser seit 1999»)
- 30. Nov. 2010: Meteoriteneinschlag in Palézieux (VD) zerstört eine leere Fabrikhalle
- 23. Aug. 2017: Bergsturz Bondo, Piz Cengalo (GR)
- 14.–16. Juli 2020: Evakuierung Asconas (TI) wegen Waldbränden
- 15. Juni 2023: Schuttstrom bei Brienz/Brinzauls (GR), das Dorf war evakuiert worden
- Juni, Juli und Aug. 2024: Unwetter und Hochwasserschäden in der ganzen Schweiz



c) Wie wird erklärt, dass die von der Klimaerwärmung verursachten Temperaturerhöhungen für eine Häufung der folgenden Naturkatastrophen verantwortlich sind? [2]

- Stärkere Niederschläge:

- Fels-/Bergstürze:

d) Wie heisst die Schweizer Spendensammelorganisation, die für spezifische Sammelaktionen mit der Schweizerischen Radio- und Fernsehgesellschaft (SRG SSR) und Schweizer Hilfswerken zusammenarbeitet? [1]

e) In Mitholz im Kandertal wird in den nächsten Jahren ein Teil der Bevölkerung evakuiert werden müssen. Dies aber nicht wegen einer bevorstehenden Naturkatastrophe – sondern? [2]

### B3 Historische Kenntnisse

Den folgenden Jahreszahlen sind historische Ereignisse zuzuordnen. Schreiben Sie zu den Jahreszahlen die Zeichen der passenden Ereignisse. Ein Beispiel (2024 = X) ist bereits ausgefüllt. [4]

1324		1	Wladimir Iljitsch Lenin, Carl Spitteler und Franz Kafka sterben.
1524		Δ	Der Asienreisende Marco Polo aus Venedig stirbt am 8. Januar.
1619		P	Mehrere Bauernkriege/-aufstände im deutschsprachigen Raum.
1924		8	Der Euro wird als Buchgeld eingeführt.
1949		R	Auf einem niederländischen Schiff werden die ersten 20 schwarzen versklavten Menschen nach Jamestown (Virginia) gebracht.
1974		X	Die Schweizer musizierende Person Nemo gewinnt den Eurovision Song Contest. Europawahl in der Europäischen Union.
1989		K	Die NATO, der Europarat, die Bundesrepublik Deutschland und die Deutsche Demokratische Republik werden gegründet.
1999		5	Fall der Berliner Mauer und Öffnung der innerdeutschen Grenze. Die UNO verabschiedet die Kinderrechtskonvention.
2024	X	0	Die Palästinensische Befreiungsorganisation (PLO) wird von der UNO als Vertretung des palästinensischen Volkes anerkannt. ABBA gewinnt mit «Waterloo» den Grand Prix d’Eurovision.

## C. Recht und Wirtschaft

### Wir heiraten!

#### C1 Recht

- a) Die nachfolgend aufgeführten Zitate stammen aus dem schweizerischen Zivilgesetzbuch (ZGB). Wählen Sie deutlich erkennbar das passende kursiv gedruckte Wort. [3]

Art. 94: Die Ehe kann von zwei Personen eingegangen werden, die das 18. Altersjahr zurückgelegt haben und *volljährig* | *handlungsfähig* | *urteilsfähig* sind.

Art. 114: Ein Ehegatte kann die Scheidung verlangen, wenn die Ehegatten bei Eintritt der Rechtshängigkeit der Klage oder bei Wechsel zur Scheidung auf Klage mindestens *zwei* | *drei* | *vier* Jahre getrennt gelebt haben.

Art. 187: Die Ehegatten können *keinesfalls* | *jederzeit* | *jährlich* durch Ehevertrag wieder ihren früheren oder einen andern Güterstand vereinbaren.

- b) Erklären Sie im Folgenden die rechtlichen Unterschiede zwischen Ehe und einer nicht eingetragenen Paarbeziehung (Konkubinat). [3]

- Welche Unterschiede bestehen bei der Steuerbehandlung?

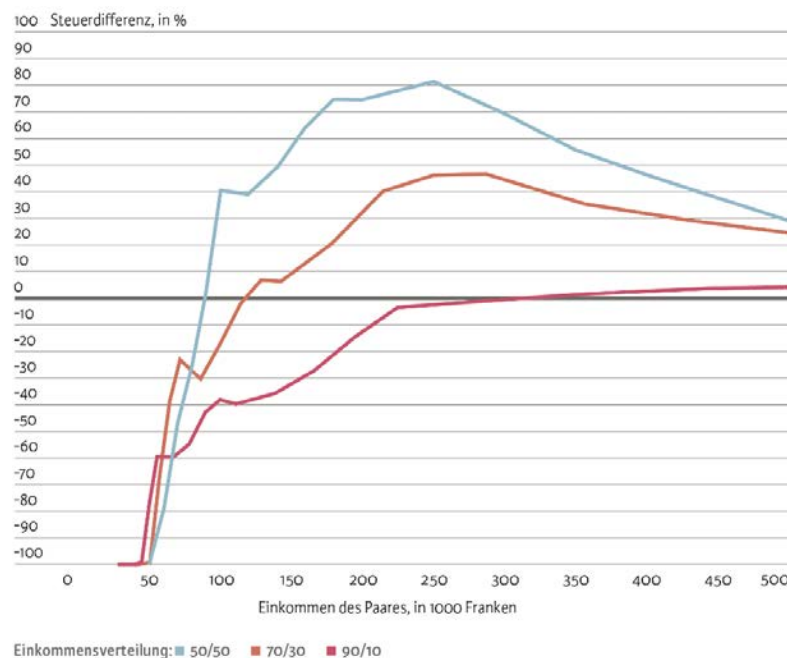
- Welche Unterschiede bestehen bei der staatlichen Vorsorge (AHV)?

- Welche Unterschiede bestehen beim Erbrecht?

## C2 Wirtschaft

- a) Immer wieder wird mit Bezug auf die Steuerpflicht von der «Heiratsstrafe» gesprochen, wonach Verheiratete gegenüber Unverheirateten benachteiligt sind. Erklären Sie, was damit gemeint ist und wie die Ungleichbehandlung zustande kommt. [4]

- b) Beachten Sie die folgende Grafik – sie zeigt die unterschiedliche Steuerbelastung bei der direkten Bundessteuer verschiedener verheirateter Paare gegenüber der Individualbesteuerung (Quelle: Rudi Peters, 2014):



- Von welchen zwei Faktoren ist die Höhe der gemeinsamen Steuer abhängig? [2]
- Welche Ehepaare profitieren eher von einem «Heiratsbonus» und werden nicht bestraft bei der Ehepaarbesteuerung? [2]

- c) Welche Auswirkungen hat die «Heiratsstrafe» auf das Verhalten von Paaren? Nennen Sie zwei mögliche Folgen. [2]
- d) Im Zusammenhang mit der «Heiratsstrafe» steht nun der Wechsel zur Individualbesteuerung zur Debatte, wonach jede natürlich Person unabhängig vom Zivilstand besteuert würde. Welche Vor- und Nachteile würde dieser Systemwechsel bringen? [4]

## D. Politische Bildung

### Staatskenntnisse und Bürgerrechte, Bürgerpflichten; Schweizer Politik aktuell

#### D1 Wie viele Unterschriften hätten Sie denn gern?

- a) Was braucht es für eine Volksinitiative bzw. ein Referendum? [1]

	Anzahl Unterschriften	Sammelfrist
Volksinitiative		
Referendum		

- b) 2024 wurde festgestellt, dass beim Unterschriftensammeln nicht immer alles mit rechten Dingen zugeht: Es wurden «Unterschriften gefälscht»! Was müssen wir uns darunter vorstellen? [2]

- c) Handelt es sich dabei um «Wahlfälschung»? Begründen Sie Ihre Einschätzung! [2]

- d) Als mögliche Gegenmassnahme wird vor allem ein Verbot des kommerziellen Sammelns von Unterschriften für Initiativen und Referenden gegen Geld genannt. Erklären Sie, welche Argumente gegen ein solches Verbot angeführt werden. [1]

## D2 Die Schweiz und die EU

Nachdem der Bundesrat 2021 die Verhandlungen über ein Rahmenabkommen mit der EU abgebrochen hat, braucht es neue Abkommen. Diskutiert wird, ob die neuen Verträge mit der EU dereinst dem fakultativen Referendum unterliegen oder ob sie neben dem Volksmehr auch eine Mehrheit der Stände erhalten müssten. Begründen Sie Ihre Einschätzung. [3]

## D3 Regieren per Verordnung

a) Die folgende Karikatur (von Ruedi Widmer) erschien in der WOZ.



Der «Stärkste» im Bundesrat entscheide «per Verordnung/Dekret» über die aufgeführten Dossiers. Damit zielt die Karikatur auf eine bestimmte Person – nennen Sie Vor- und Nachnamen sowie die Parteizugehörigkeit und das Departement. [1]

b) Wählen Sie *eines* der in der Karikatur und im Folgenden aufgeführten Dossiers (markieren Sie bitte deutlich, welches) und erklären Sie, warum dieses Thema zu reden gibt. [2]

Atomkraft  
SRG  
Wolf  
Fluglärm  
Post

#### D4 Armeebudget

- a) Als erstes Land hat die Schweiz per Volksabstimmung 2001 in die Verfassung aufgenommen, dass Einnahmen und Ausgaben des Finanzhaushalts im Gleichgewicht bleiben müssen. Überschreitungen kann die Bundesversammlung zwar zulassen, diese müssen in den Folgejahren aber wieder kompensiert werden.

Wie nennt man dieses Instrument, das die Finanzen eines Landes im Gleichgewicht halten soll? [1]

- b) Das Eidgenössische Departement für Verteidigung, Bevölkerungsschutz und Sport (VBS) schreibt auf seiner Homepage: «Aufgrund des grossen Spardrucks sind bei der Armee Fähigkeitslücken entstanden, welche aufgrund der verschlechterten Sicherheitslage geschlossen werden sollen. [...] Am 3. Juni 2024 hat der Ständerat den Zahlungsrahmen für die Armee in den Jahren 2025 bis 2028 um 4 Milliarden Franken auf 29,8 Milliarden Franken erhöht. Der Nationalrat sprach sich am 19. September 2024 auch für diese Erhöhung aus. Zur Finanzierung bestehen aber noch Differenzen.»

Was ist mit der «verschlechterten Sicherheitslage» gemeint? [1]

- c) Die geplante Aufstockung des Armeebudgets um mehrere Milliarden Franken stellt ein Problem dar, weil die geplanten Ausgaben die Einnahmen des Bundes stark übertreffen würden und so das von der Verfassung geforderte Gleichgewicht ins Wanken käme. Welche Möglichkeiten zogen und ziehen eine vom Bundesrat eingesetzte «Expertengruppe zur Aufgaben- und Subventionsüberprüfung» und das Parlament in den aktuellen Debatten in Betracht? Schreiben Sie in jedes leere Feld der Tabelle ein möglichst konkretes Beispiel. [3]

Massnahme	Beispiel
Reduktion der Ausgaben	
Erhöhung der Einnahmen	
Weitere Lösung(en)	

## D5 Zur Altersvorsorge

- a) Die Altersvorsorge in der Schweiz basiert auf dem sogenannten Drei-Säulen-System. Benennen und erklären Sie in Stichwörtern die drei «Säulen»: [1]

Säule	Funktionsweise
1. Säule =	
2. Säule =	
3. Säule =	

- b) Im August 2024 gab das Bundesamt für Sozialversicherungen (BSV) bekannt, dass die bisherigen Zahlen zur mittelfristigen Entwicklung der AHV zu pessimistisch gewesen sind. Warum hat diese Mitteilung so hohe Wellen geschlagen? [1]

- c) A propos: Wie wurde 2024 eigentlich abgestimmt? Kreuzen Sie an. [1]

### März 2024

- Für ein besseres Leben im Alter (Initiative für eine 13. AHV-Rente):  
 angenommen  abgelehnt
- Für eine sichere und nachhaltige Altersvorsorge (Renteninitiative):  
 angenommen  abgelehnt

### September 2024

- Änderung des Bundesgesetzes über die berufliche Alters-, Hinterlassenen- und Invalidenversorgung (BVG) (Reform der beruflichen Vorsorge):  angenommen  abgelehnt

## E. Gesellschaft und Kultur

### E1 Personen des öffentlichen Lebens

Wer ist abgebildet? Oder welche Tätigkeit üben oder übten die Personen aus (Stichwort)?

[4]



## E2 Aktuelles aus Kultur und Gesellschaft

Füllen Sie den Lückentext mit den hier zur Verfügung gestellten Vorschlägen.

[2]

*Marmorera-Staudamm, 2474, Lauterbrunnen, A6, ein Viertel, Klöntalersee, Lac des Dix, Verzasca-Staudamm, Wallis, Belgien, die Hälfte, Bern, Tschechien, Zermatt, A13, 1237.*

Die Hochwasserlage in Europa spitzt sich dramatisch zu. Mittlerweile sind Deutschland und seine Nachbarländer \_\_\_\_\_, Österreich und Polen, sowie auch Rumänien und die Slowakei betroffen. Die Bilder erinnern an den Sommer 2024 in der Schweiz, während dem drei Kantone besonders stark betroffen waren. Im Kanton Tessin, Graubünden und \_\_\_\_\_ war es im Juni 2024 zu schweren Unwetterfolgen gekommen. Unter anderem wurden mehrere Ortschaften von der Zufahrt abgeschnitten. Dies betraf nicht nur den Touristenhotspot \_\_\_\_\_, sondern auch die \_\_\_\_\_, die aufgrund von niedergehenden Geröll- und Schlammmassen in der Gemeinde Lostallo verschüttet wurde. Die drei betroffenen Kantone sind auch diejenigen mit den meisten Speicherseen der Schweiz. Mit insgesamt 33 Speicherseen liegen ca. \_\_\_\_\_ dieser Gewässer im Kanton Graubünden. Wenig bekannt ist, dass der Sihlsee im Kanton Schwyz der flächenmässig grösste Speichersee der Schweiz ist, während der Walliser \_\_\_\_\_ mit über 400 Kubikmeter Wasser das grösste Volumen aufweist. Hier wird das Schmelzwasser von rund 35 Gletschern gesammelt. Den wohl bekanntesten Staudamm der Schweiz beherbergt der Kanton Tessin am Lago di Vogorno, den 220 m hohen \_\_\_\_\_, der seit dem 007-Goldeneye-Bungee-Jump ein beliebtes Touristenziel ist. Die längste Staumauer steht aber am Muttsee im Kanton Glarus. 2021 wurde diese Mauer zusätzlich mit einer Solaranlage bestückt, die für über 600 Haushalte zusätzlichen Strom erzeugt. Zudem gehört der Muttsee-Staudamm auf \_\_\_\_\_ m ü. M. zu den drei höchstgelegenen Speicherseen der Schweiz.

## E3 Wer hat's gesagt?

Hier ist alles falsch zugeordnet. Schreiben Sie hinter die Zitate die jeweils richtige Ziffer, damit die Quelle wieder stimmt.

[2]

*In Springfield they're eating the dogs.*

*I am grateful to everyone who is helping.*

*Als Vorlage für das 10-Meter-Schiessen habe ich Motive gebraucht, die genug sichtbar sind.*

*Give us the tools [faster] and we'll finish the job [faster].*

*Phänomenal ist das. Jetzt muss die Schweiz in der Klimapolitik über die Bücher.*

*Lack of talent, lazy, olympic champions.*

*Wenn man jetzt einfach dem Menschen die Schuld an der Klimaerwärmung gibt, ist das eine neue Form der Hexenjagd.*

*Man hat eine echte Mobbing-Kultur etabliert.*

<input type="text"/>	1	Volodymyr Zelenskyy
<input type="text"/>	2	Sanija Ameti
<input type="text"/>	3	Marcel Dettling
<input type="text"/>	4	Stefanie Brander, Seniorin
<input type="text"/>	5	Donald Trump
<input type="text"/>	6	Peter Villiger, pensionierter Rheumatologe Inselspital
<input type="text"/>	7	Winston Churchill, Benjamin Netanjah
<input type="text"/>	8	Simone Biles



## E5 Sport

- a) Füllen Sie den Lückentext mit Orten, Ländern, Namen und Sportarten aus dem Kasten. [6]

*Orte:* Paris | Rom | Tokio | Zürich

*Länder:* Deutschland | England | Holland | Jamaika | Schweden | Spanien | Sudan | USA

*Namen:* Nina Christen | Armand Duplantis | Muriel Furrer | Sifan Hassan | Ditaji Kambundji |

Chiara Leone | Dominic Lobalu | Noah Lyles | Fabian Schär | Xherdan Shaqiri |

Yann Sommer | Ralph Stöckli | Granit Xhaka | Murat Yakin

*Sportarten:* Beachvolleyball | Rudern | Schwimmen | Stabhochsprung

Die besten Athletinnen und Athleten der Welt versammelten sich von Ende Juli bis Mitte August in \_\_\_\_\_ und kämpften an den Olympischen Spielen um Edelmetall. Überraschend Gold holte die Schweizer Schützin \_\_\_\_\_, die somit Nachfolgerin von \_\_\_\_\_ wurde, die bei den vergangenen Spielen in \_\_\_\_\_ triumphiert hatte. Neben den goldenen Auszeichnungen holte die Schweizer Delegation auch einige Bronze-Medaillen: Roman Mityukov im \_\_\_\_\_, das Duo Rösli/Gulich im \_\_\_\_\_ sowie das Duo Hüberli/Brunner im \_\_\_\_\_ durften sich jeweils über Rang 3 freuen. Insgesamt holte die Schweizer Equipe acht Medaillen, Delegationsleiter \_\_\_\_\_ durfte mit der Ausbeute zufrieden sein.

Gold und gleich noch einen Weltrekord dazu gabs für den Stabhochspringer \_\_\_\_\_, der für \_\_\_\_\_ startet. Für Aufsehen sorgte auch der Auftritt der Langstreckenläuferin \_\_\_\_\_ aus \_\_\_\_\_, die nicht nur über die 5000 sowie 10'000 Meter antrat, sondern auch noch den Marathon gewann. Das Rennen der Männer über die 100 Meter wurde wie so oft ein Duell zwischen den Sprint-Nationen \_\_\_\_\_ und \_\_\_\_\_, wobei sich Superstar \_\_\_\_\_ knapp durchsetzen konnte.

Bereits vor den Sommerspielen massen sich die besten Leichtathletinnen und Leichtathleten des Kontinents an der EM in \_\_\_\_\_. Und da hatten die Schweizer einiges zu jubeln: Der aus \_\_\_\_\_ geflüchtete \_\_\_\_\_ holte über die 5000 Meter Gold. Angelica Moser überraschte im Stabhochsprung alle und sich selbst und schaffte es auf Rang 1. Und Hürdensprinterin \_\_\_\_\_ fehlte nur ganz wenig zur goldenen Krönung.

In diesem Sommer wurde aber nicht nur gesprintet und gesprungen, sondern auch gekickt. An der Fussball-EM in \_\_\_\_\_ triumphierte das Team aus \_\_\_\_\_. Die Schweizer Mannschaft mit Trainer \_\_\_\_\_ und Captain \_\_\_\_\_ konnte mit einem taktisch sehr guten Auftritt überzeugen, der Viertelfinal gegen \_\_\_\_\_ bedeutete aber Endstation. Nach dem Turnier gaben drei erfahrene Spieler ihren Rücktritt aus der Nationalmannschaft bekannt. Goalie \_\_\_\_\_, Verteidiger \_\_\_\_\_ sowie Flügel-spieler \_\_\_\_\_.

Dass \_\_\_\_\_ Austragungsort der Rad- und Para-Cycling-Strassen-Weltmeisterschaften sein durfte, wurde vom tragischen Unfalltod der erst 18-jährigen \_\_\_\_\_ überschattet.

- b) Ein grosser Teil der Budgets von Sportclubs bilden Beteiligungen an TV-Übertragungsrechten, beispielsweise im Fussball oder im Eishockey. Erklären Sie kurz, wie dadurch der internationale Wettbewerb verzerrt wird. Gehen Sie zudem auf die spezielle Situation in der Schweiz mit dem Schweizer Fernsehen (SRF) ein und welche Folgen das für die Schweizer Sportclubs im internationalen Vergleich bedeutet. [2]

## **F. Medien**

### **F1 Medien Schweiz**

Swissinfo titelte im August: «Somedia mit Teilerfolg gegen Schawinski im Streit um Radio Grischa.»  
Wer streitet hier worum und warum? Erklären Sie. [5]

### **F2 Entwicklungen**

Social Media nimmt bei jungen Menschen eine immer wichtigere Rolle ein, wenn es darum geht, sich mit Gleichgesinnten auszutauschen, aber auch, um sich über das Weltgeschehen zu informieren. Watson titelte im Frühling 2024: «Psychische Störungen wegen Social Media nehmen zu – Experten fordern neue Regeln.» Welche Gefahren bestehen in der Nutzung von sozialen Medien, und welche Rahmenbedingungen braucht es Ihrer Meinung nach, damit Social Media vom nützlichen Tool nicht zum gefährlichen wird? Erklären Sie zudem kurz den Begriff «Filterblase» vor dem Hintergrund der sozialen Medien als Informationsquelle. Welche Gefahren gibt es dabei? [6]

### F3 Medienethik

- a) «Das Newsportal <20 Minuten> feierte jüngst das 25-Jahre-Jubiläum mit einer Sonderausgabe. Darin erschienen mehrere Testimonials von Personen, die beschrieben, weshalb sie <20 Minuten>-Leser sind. Doch zwei davon waren KI-generiert [...]», titelte Watson. Was war passiert? Am 11. September 2024 war in 3.2 Millionen Haushalte in der Deutschschweiz eine Sonderausgabe von «20 Minuten» verteilt worden. Auf deren Community-Seiten liessen sich Leserinnen und Leser zitieren, die angaben, was sie an dem Gratisblatt schätzen. Ein X-User hat daraufhin festgestellt, dass mindestens eines dieser «Testimonials» mit künstlicher Intelligenz (KI) generiert wurde, worauf 20-Minuten-Chefredakteurin Désirée Pomper einräumte, dass es sich um eine «Fehlleistung» handle, die den publizistischen Leitlinien des Mediums zuwiderlaufe: «Wir publizieren keine fotorealisticen Bilder, die von einer KI erzeugt wurden.» Äussern Sie sich zu einem praktikablen Umgang im journalistischen Alltag mit KI. Unter welchen Voraussetzungen ist oder wäre der Einsatz von KI denkbar? Ist Ihrer Meinung nach zwischen Bild und Text zu unterscheiden? [6]
- b) «Wenn wir Interviews zurückbekommen, in denen fast alles noch einmal verändert wurde, trägt das garantiert nicht zur Glaubwürdigkeit bei.» Das sind die Worte von Bild-Chefredakteurin Marion Horn. Das deutsche Boulevardblatt hat entschieden, dass man Politikerinnen und Politikern Interviews nicht mehr oder nur noch in Ausnahmefällen zum Gegenlesen vorlegt. Führen Sie aus, was für eine solche Massnahme spricht und was dagegen. [3]